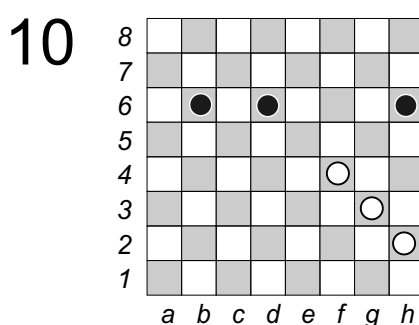
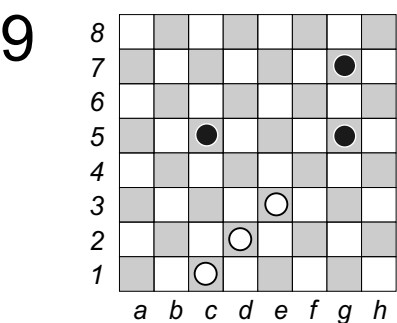
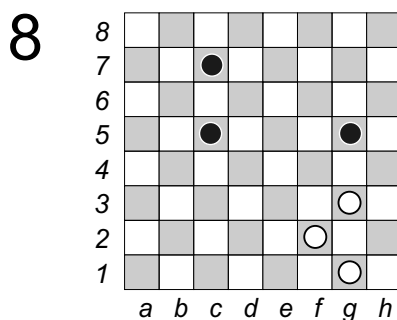
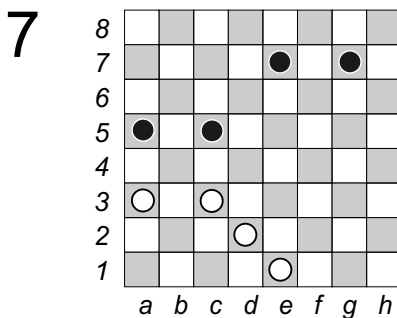
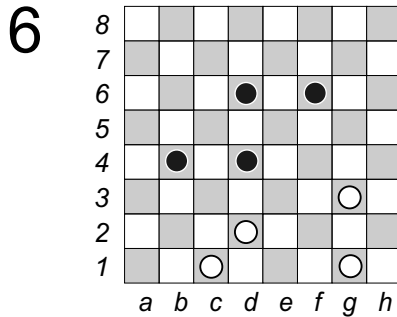
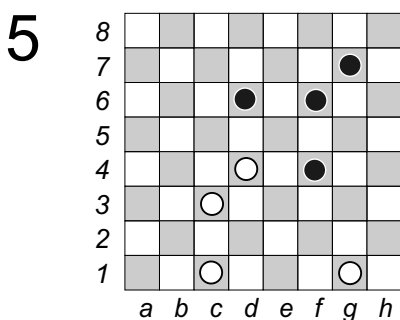
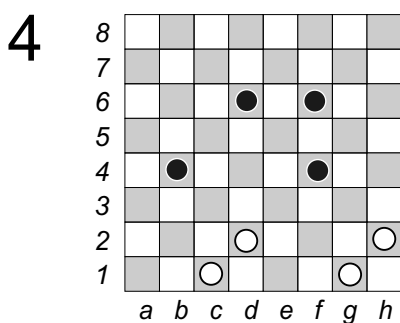
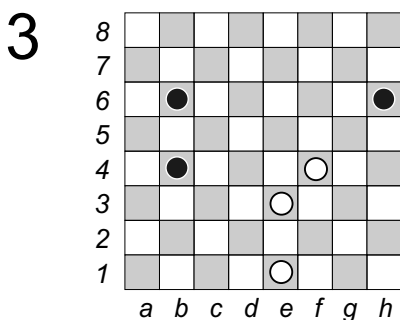
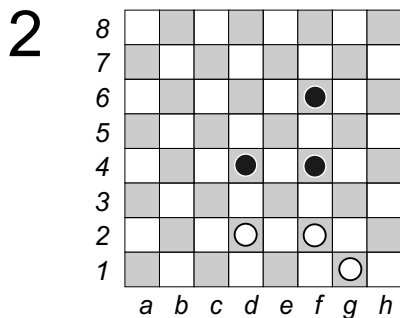
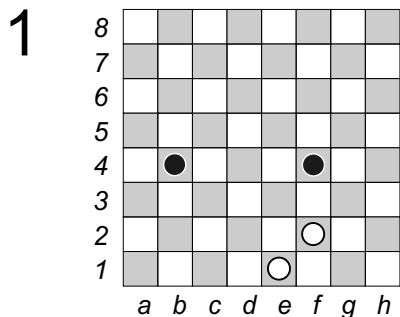
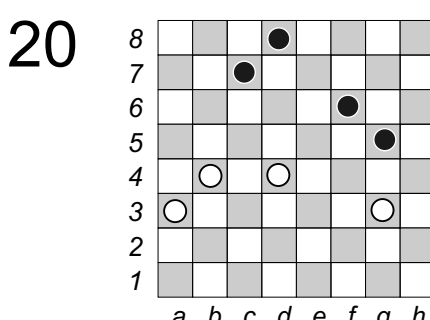
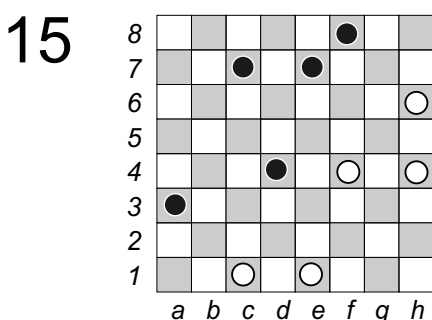
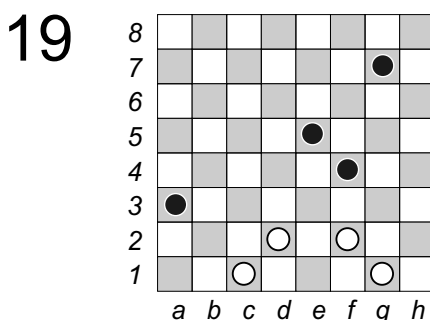
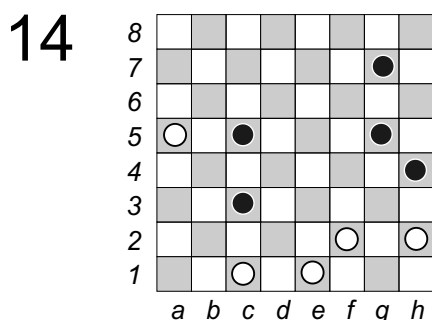
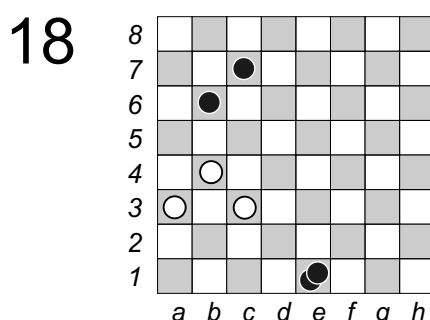
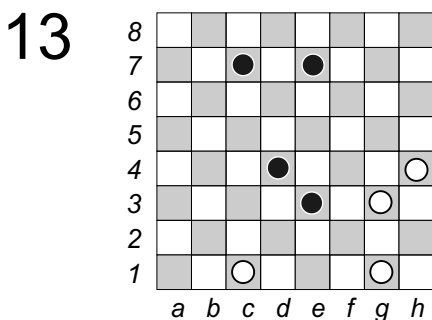
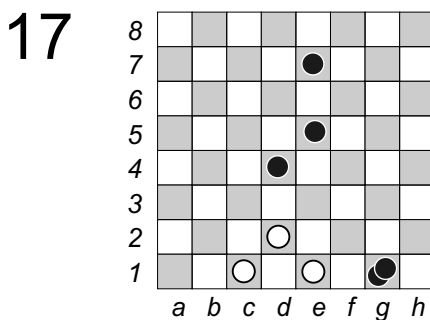
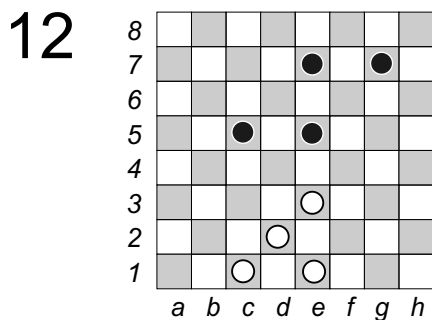
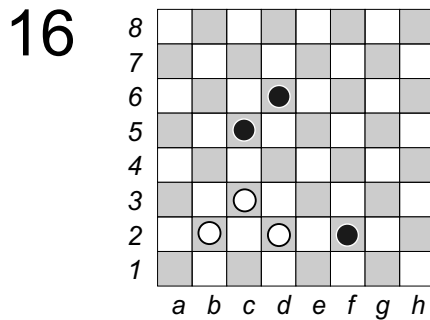
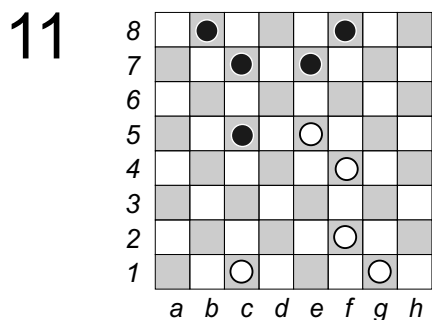


# A1



Visur gājieni baltajiem. Jāatrod divgājienu kombināciju (atdod un nosit) un nepārvietojot kauliņus, jāuzraksta uz kāda lauciņa otrajā gājienā baltie pabeidz sitienu.  
 Во всех позициях ход белых и предлагается найти двухходовую комбинацию (т. е. – отдал и побил) и не передвигая шашек написать на какое поле белые попадут своим вторым ходом.

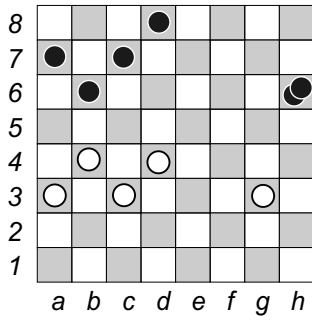
# A2



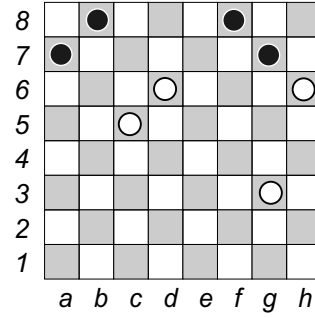
Visur gājiens baltajiem. Jāatrod divgājienu kombināciju (atdod un nosit) un nepārvietojot kauliņus, jāuzraksta uz kāda lauciņa otrajā gājienā baltie pabeidz sitienu.

Во всех позициях ход белых и предлагается найти двухходовую комбинацию (т. е. – отдал и побил) и не передвигая шашек написать на какое поле белые попадут своим вторым ходом.

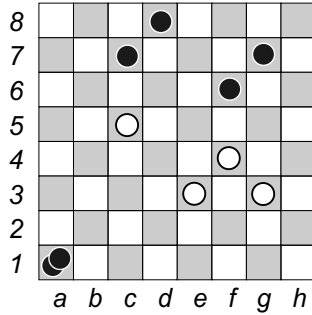
21



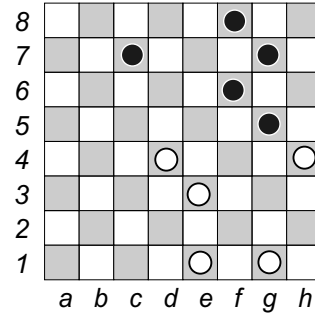
26



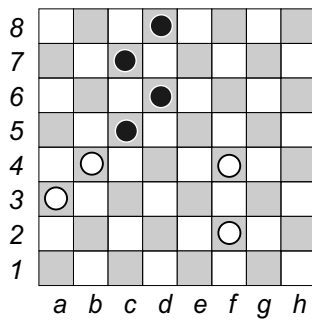
22



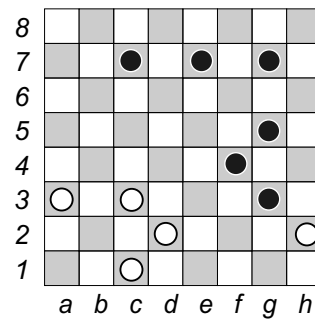
27



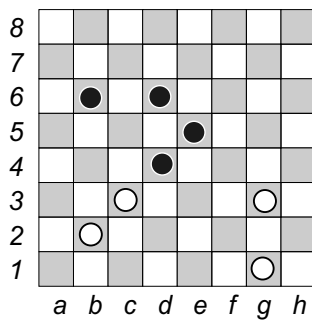
23



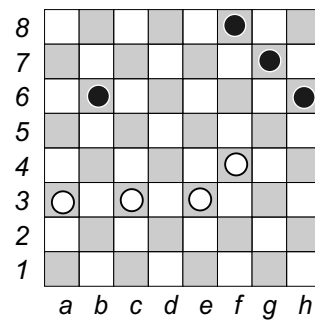
28



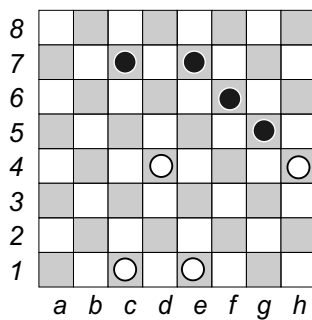
24



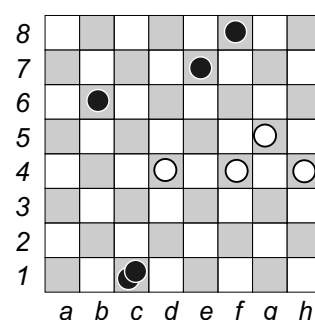
29



25

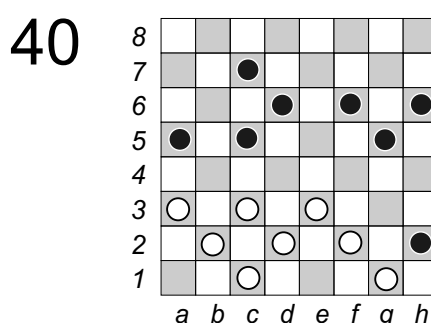
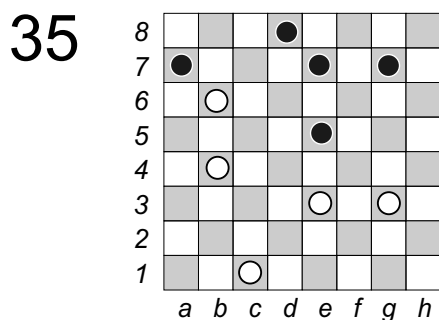
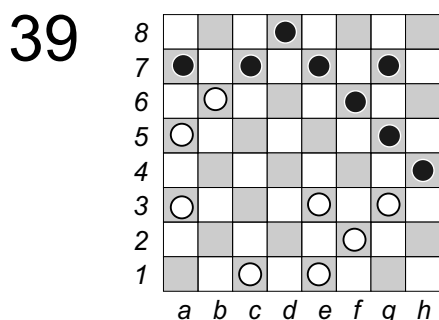
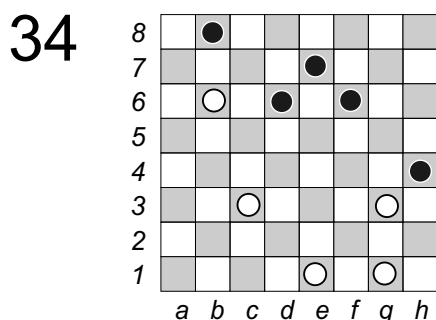
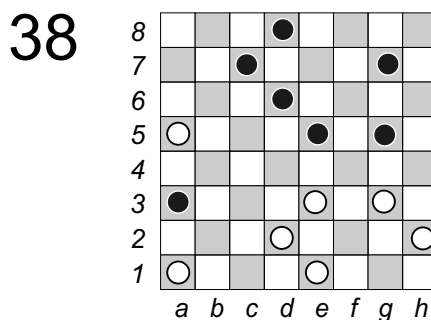
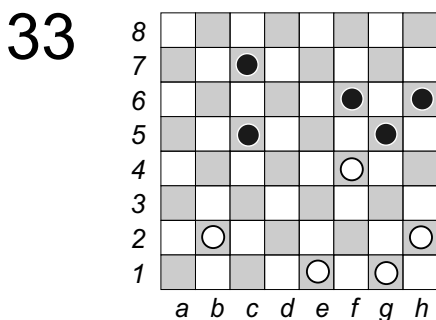
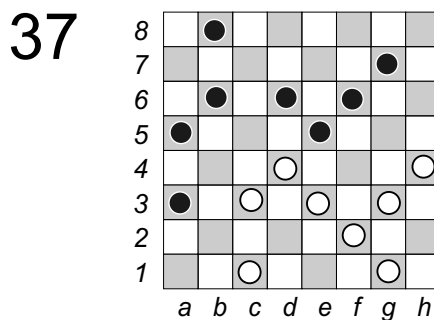
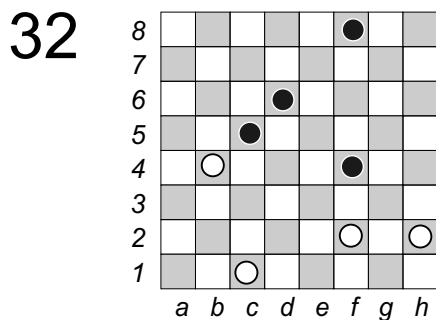
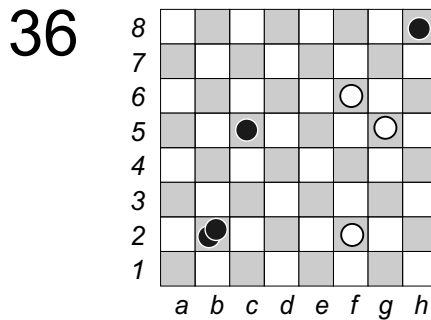
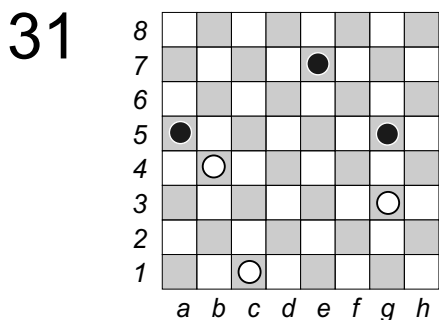


30



Visur gājiens baltajiem. Jāatrod divgājienu kombināciju (atdod un nosit) un nepārvietojot kauliņus, jāuzraksta uz kāda lauciņa otrajā gājienā baltie pabeidz sitienu.

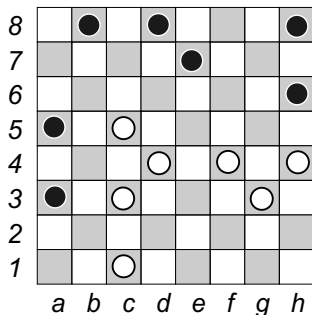
Во всех позициях ход белых и предлагается найти двухходовую комбинацию (т. е. – отдал и побил) и не передвигая шашек написать на какое поле белые попадут своим вторым ходом.



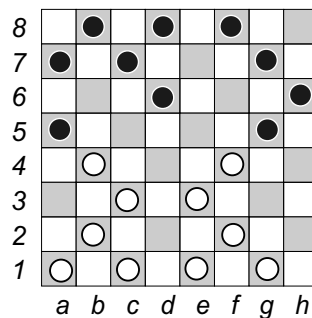
Visur gājieni baltajiem. Jāatrod divgājienu kombināciju (atdod un nosit) un nepārvietojot kauliņus, jāuzraksta uz kāda lauciņa otrajā gājienā baltie pabeidz sitienu.

Во всех позициях ход белых и предлагается найти двухходовую комбинацию (т. е. – отдал и побил) и не передвигая шашек написать на какое поле белые попадут своим вторым ходом.

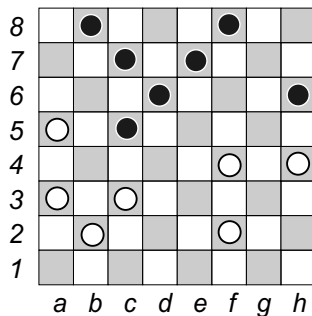
41



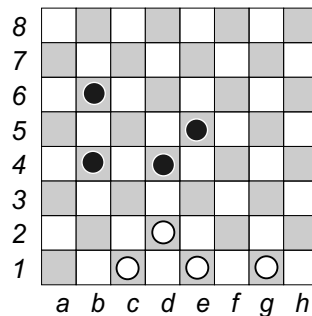
46



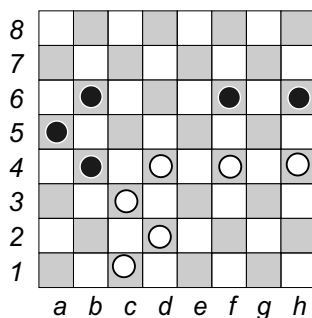
42



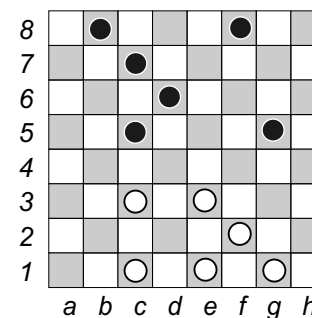
47



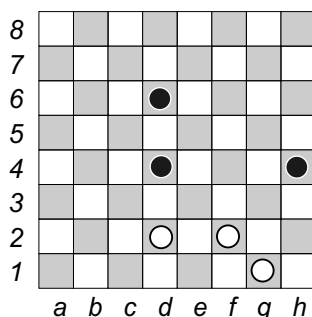
43



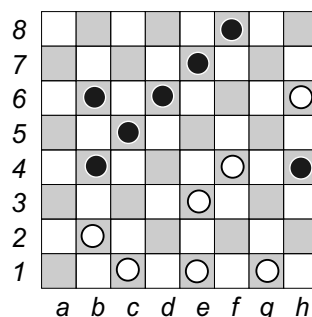
48



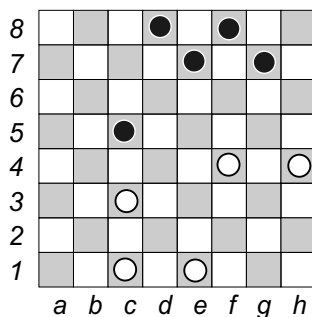
44



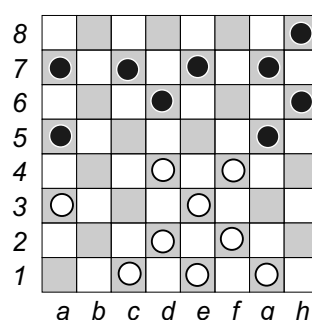
49



45



50

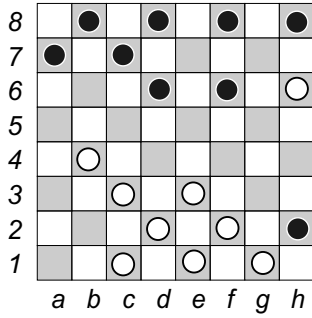


Visur gājieni baltajiem. Jāatrod divgājienu kombināciju (atdod un nosit) un nepārvietojot kauliņus, jāuzraksta uz kāda lauciņa otrajā gājienā baltie pabeidz sitienu.

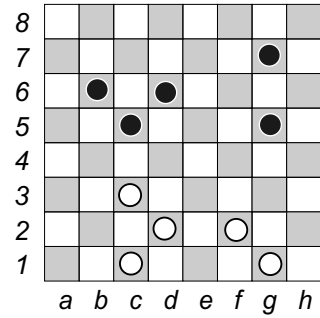
Во всех позициях ход белых и предлагается найти двухходовую комбинацию (т. е. – отдал и побил) и не передвигая шашек написать на какое поле белые попадут своим вторым ходом.

A6

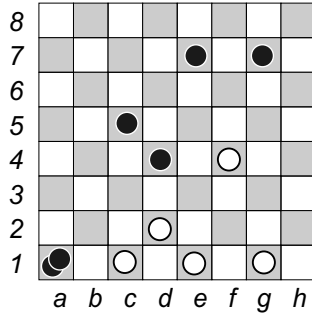
51



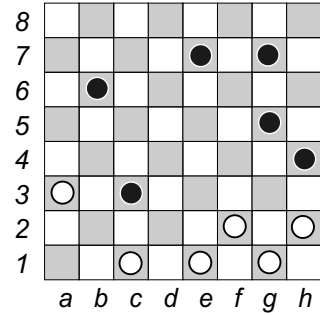
56



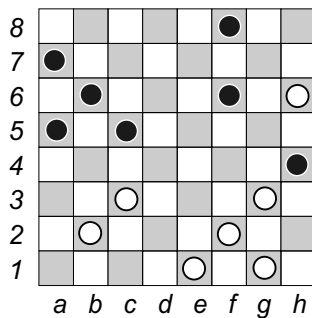
52



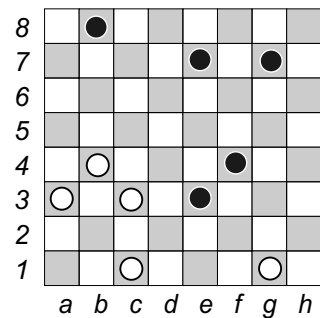
57



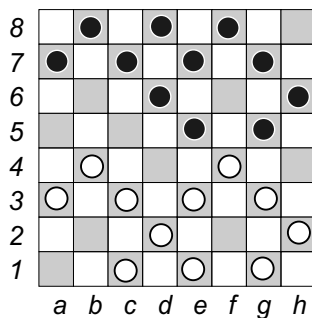
53



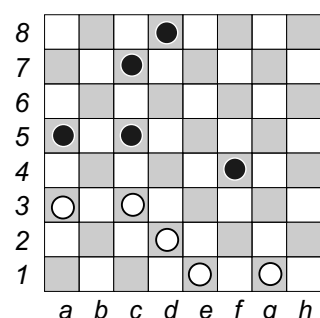
58



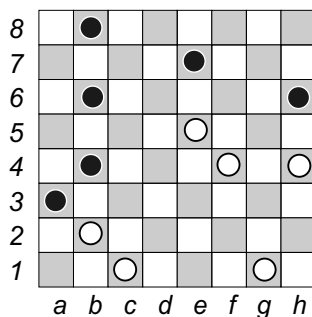
54



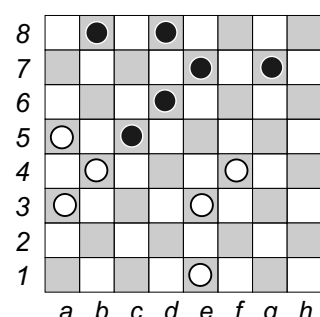
59



55



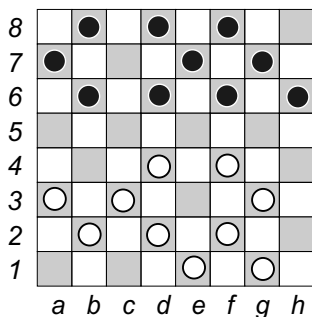
60



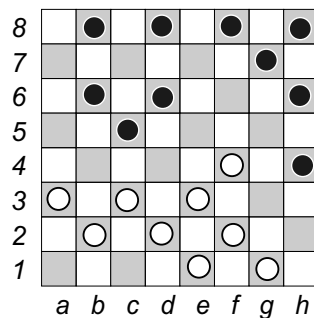
Visur gājieni baltajiem. Jāatrod divgājienu kombināciju (atdod un nosit) un nepārvietojot kauliņus, jāuzraksta uz kāda lauciņa otrajā gājienā baltie pabeidz sitienu.

Во всех позициях ход белых и предлагается найти двухходовую комбинацию (т. е. – отдал и побил) и не передвигая шашек написать на какое поле белые попадут своим вторым ходом.

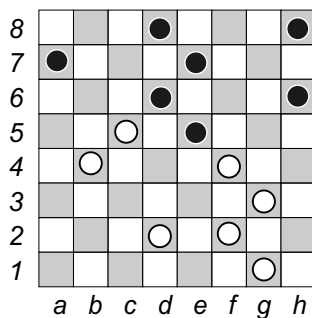
61



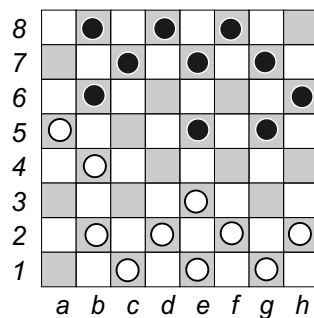
66



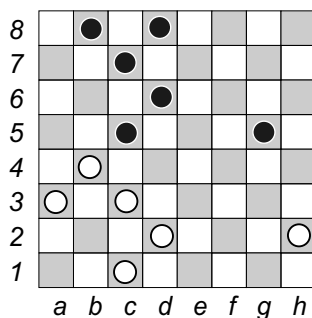
62



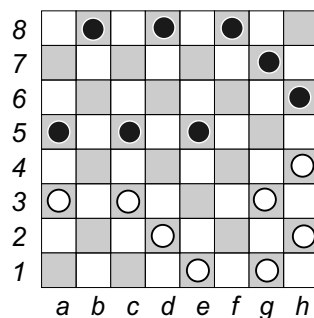
67



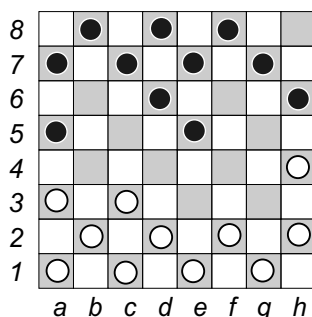
63



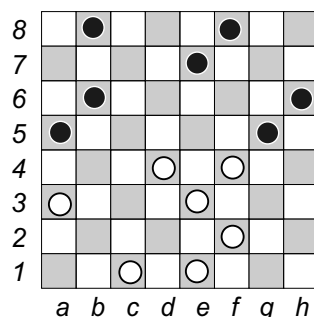
68



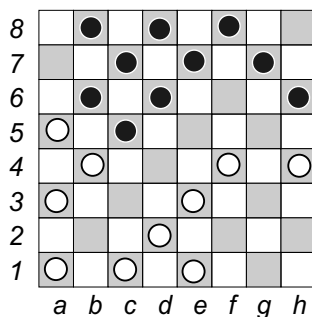
64



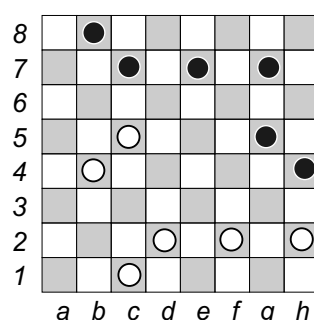
69



65



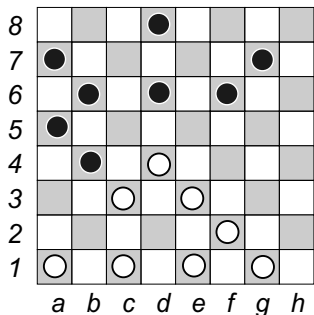
70



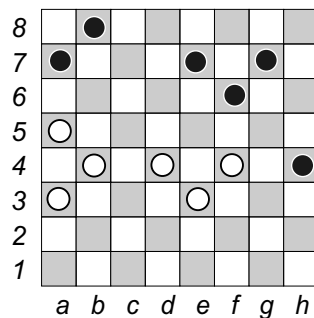
Visur gājieni baltajiem. Jāatrod divgājienu kombināciju (atdod un nosit) un nepārvietojot kauliņus, jāuzraksta uz kāda lauciņa otrajā gājienā baltie pabeidz sitienu.

Во всех позициях ход белых и предлагается найти двухходовую комбинацию (т. е. – отдал и побил) и не передвигая шашек написать на какое поле белые попадут своим вторым ходом.

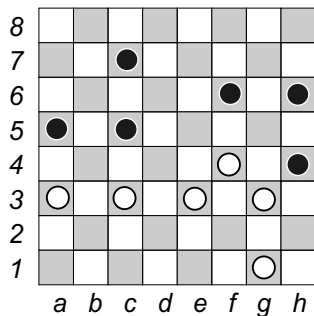
71



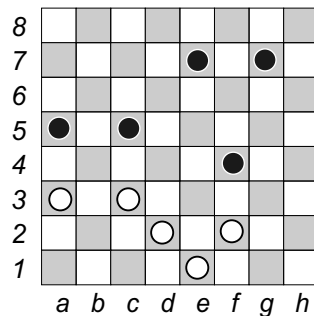
76



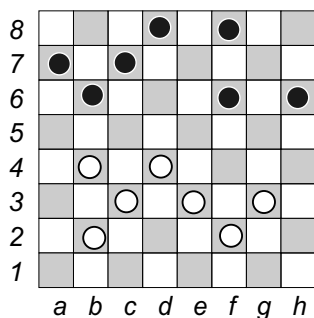
72



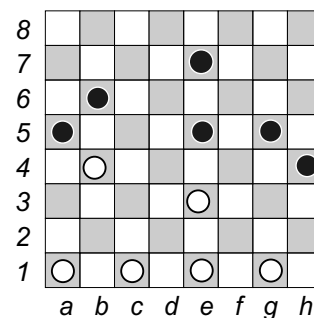
77



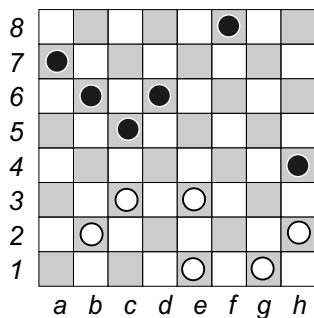
73



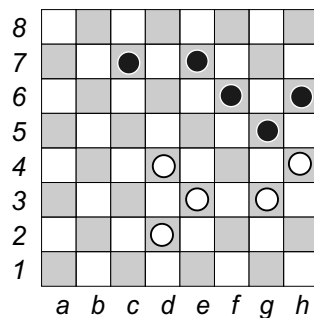
78



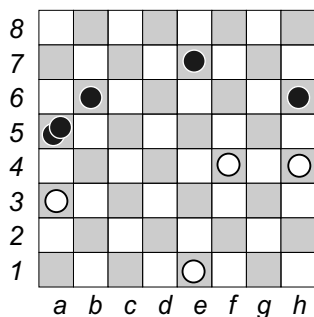
74



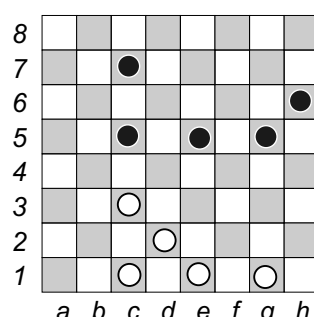
79



75



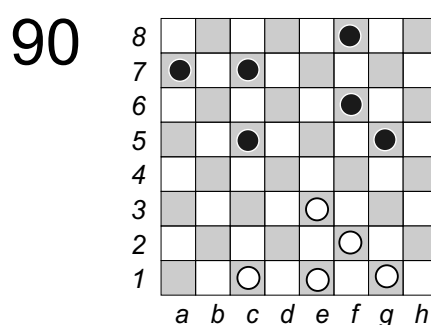
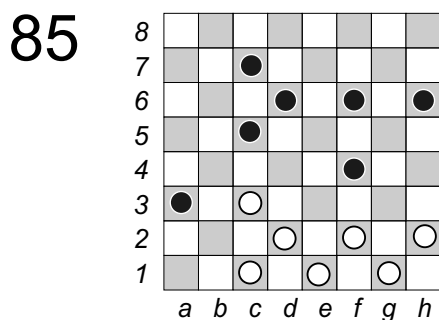
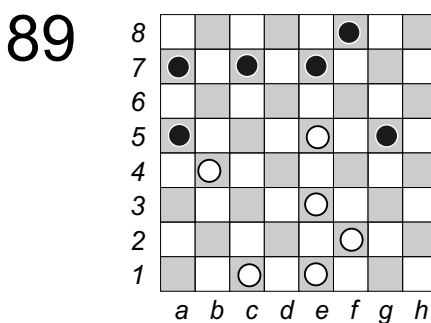
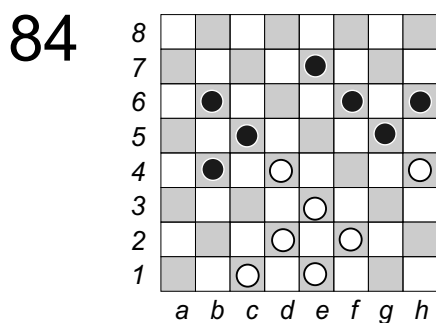
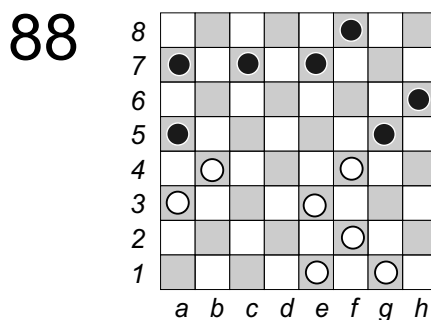
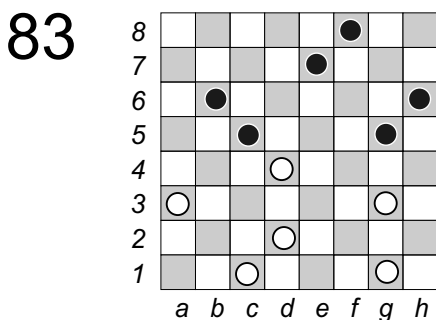
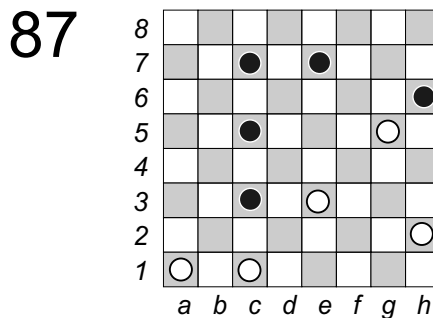
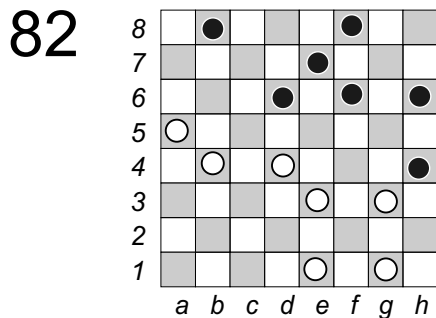
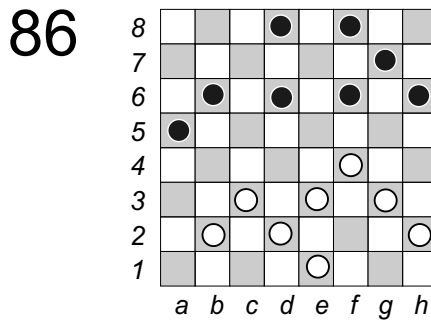
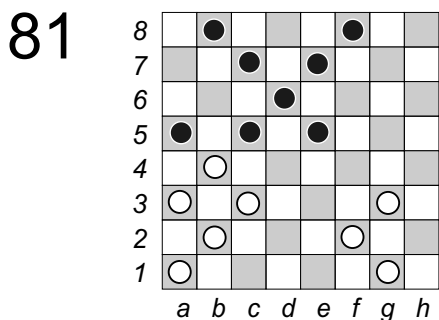
80



Visur gājieni baltajiem. Jāatrod divgājienu kombināciju (atdod un nosit) un nepārvietojojot kauliņus, jāuzraksta uz kāda lauciņa otrajā gājienā baltie pabeidz sitienu.

Во всех позициях ход белых и предлагается найти двухходовую комбинацию (т. е. – отдал и побил) и не передвигая шашек написать на какое поле белые попадут своим вторым ходом.



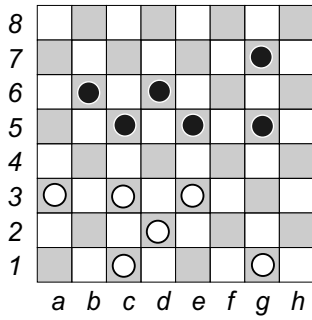


Visur gājieni baltajiem. Jāatrod divgājienu kombināciju (atdod un nosit) un nepārvietojot kauliņus, jāuzraksta uz kāda lauciņa otrajā gājienā baltie pabeidz sitienu.

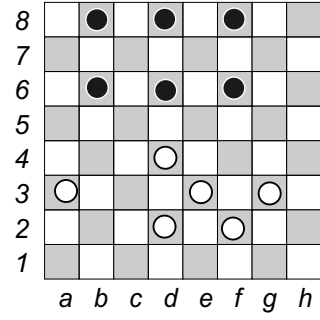
Во всех позициях ход белых и предлагается найти двухходовую комбинацию (т. е. – отдал и побил) и не передвигая шашек написать на какое поле белые попадут своим вторым ходом.

# A10

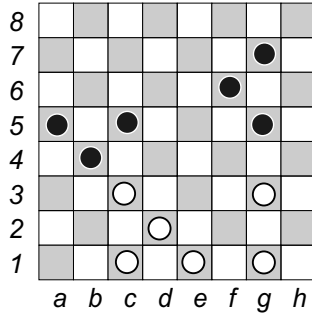
91



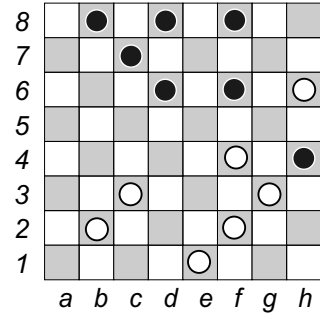
96



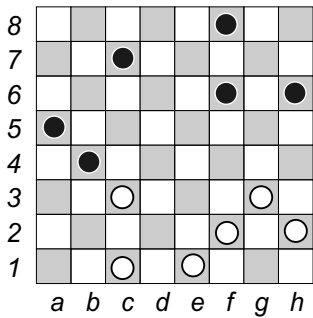
92



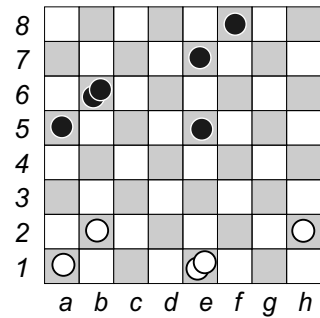
97



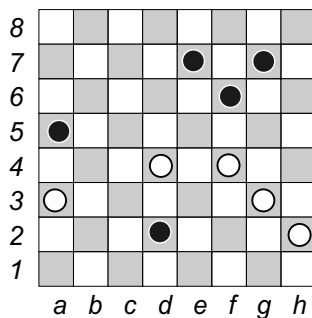
93



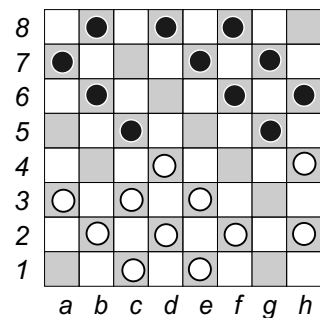
98



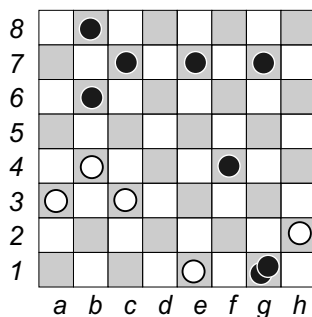
94



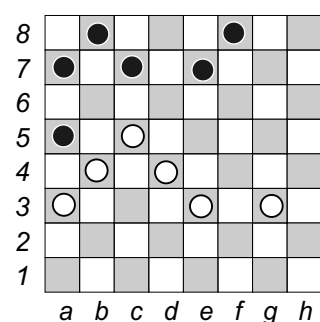
99



95



100



Visur gājieni baltajiem. Jāatrod divgājienu kombināciju (atdod un nosit) un nepārvietojot kauliņus, jāuzraksta uz kāda lauciņa otrajā gājienā baltie pabeidz sitienu.

Во всех позициях ход белых и предлагается найти двухходовую комбинацию (т. е. – отдал и побил) и не передвигая шашек написать на какое поле белые попадут своим вторым ходом.

# Atbildes

<p><b>A1</b></p> <p>1 – a5 2 – e7 3 – c7 4 – c5 5 – e7 6 – g5 7 – h6 8 – d8 9 – f8 10 – a5</p>	<p><b>A5</b></p> <p>41 – f8 42 – b6 43 – a7 44 – e7 45 – h8 46 – h8 47 – a7 48 – d8 49 – c7 50 – a5</p>	<p><b>A9</b></p> <p>81 – f6 vai e3 82 – g7 83 – a5 84 – e5, f6, vai h8 85 – g5 86 – c7 vai a7 87 – c1 88 – b8 vai a5 89 – d2 90 – g5 vai h4</p>
<p><b>A2</b></p> <p>11 – d8 12 – h6 13 – e3 vai f2 14 – b4 vai e3 15 – e3, f2 vai g1 16 – c7 17 – f8 18 – a7 19 – h8 20 – b8</p>	<p><b>A6</b></p> <p>51 – c5 52 – h6 53 – g7 54 – h8 55 – c3, d2 vai e1 56 – a7 57 – a7 58 – e3 vai d2 59 – b8 60 – c1</p>	<p><b>A10</b></p> <p>91 – a7 92 – a3 93 – g7 94 – c1 95 – e3, d2 vai c1 96 – a7 vai g5 97 – g7 98 – a5 99 – h8 100 – f6, g5, h5, d4, c3, b2 vai a1</p>
<p><b>A3</b></p> <p>21 – b8 22 – b8 23 – b8 24 – a5 25 – e3, f2 vai g1 26 – a3 27 – h8 28 – b8 29 – a7 30 – a5</p>	<p><b>A7</b></p> <p>61 – a5 62 – f8 63 – h6 64 – h8 65 – h8 66 – a5 67 – h8 68 – f4 69 – a5 70 – d6</p>	<p><b>Atgādinājums:</b></p> <ol style="list-style-type: none"> <li>1. Ja kauliņš sitiенā sasniedz pēdējo horizontāli, tad tas uzreiz pārvēršas par dāmu un sitiens ir JĀTURPINA.</li> <li>2. Vispirms kauliņu novieto uz jauno lauciņu un tikai PĒC TAM noņem pretiniak kauliņus.</li> <li>3. Pāri vienam un tam pašam kauliņam DIVREIZ lekt nedrīkst.</li> <li>4. Ja sitienu var pabeigt uz dažādiem lauciņiem, izvēlaties izdevīgāko.</li> </ol>
<p><b>A4</b></p> <p>31 – d8 32 – c7 33 – h4 34 – g7 35 – h6 36 – b4 vai a3 37 – h8 38 – c5 39 – b8 vai b4 40 – h4 vai g5</p>	<p><b>A8</b></p> <p>71 – g5 vai e3 72 – e1 73 – g7 74 – a5 75 – a5 76 – h6 77 – e3, d2 vai c1 78 – a5 79 – g1 80 – b8</p>	

Atbildes raksta uz lapas, ko pēc tam atdod trenerim. Ja kaut viena atbilde uz 10 kartiņas uzdevumiem ir nepareiza, tad nākošajā nodarbībā paskaidro pieļauto kļūdu un visa kartiņa jārisina un atbildes jāraksta vēlreiz.

# ОТВЕТЫ

<b>A1</b> 1 – a5 2 – e7 3 – c7 4 – c5 5 – e7 6 – g5 7 – h6 8 – d8 9 – f8 10 – a5	<b>A5</b> 41 – f8 42 – b6 43 – a7 44 – e7 45 – h8 46 – h8 47 – a7 48 – d8 49 – c7 50 – a5	<b>A9</b> 81 – f6 vai e3 82 – g7 83 – a5 84 – e5, f6, vai h8 85 – g5 86 – c7 vai a7 87 – c1 88 – b8 vai a5 89 – d2 90 – g5 vai h4
<b>A2</b> 11 – d8 12 – h6 13 – e3 vai f2 14 – b4 vai e3 15 – e3, f2 vai g1 16 – c7 17 – f8 18 – a7 19 – h8 20 – b8	<b>A6</b> 51 – c5 52 – h6 53 – g7 54 – h8 55 – c3, d2 vai e1 56 – a7 57 – a7 58 – e3 vai d2 59 – b8 60 – c1	<b>A10</b> 91 – a7 92 – a3 93 – g7 94 – c1 95 – e3, d2 vai c1 96 – a7 vai g5 97 – g7 98 – a5 99 – h8 100 – f6, g5, h5, d4, c3, b2 vai a1
<b>A3</b> 21 – b8 22 – b8 23 – b8 24 – a5 25 – e3, f2 vai g1 26 – a3 27 – h8 28 – b8 29 – a7 30 – a5	<b>A7</b> 61 – a5 62 – f8 63 – h6 64 – h8 65 – h8 66 – a5 67 – h8 68 – f4 69 – a5 70 – d6	<b>Напоминание:</b> <ol style="list-style-type: none"><li>1. Если шашка ударным ходом попадает на последнюю горизонталь, то она сразу превращается в дамку и ОБЯЗАНА бить дальше.</li><li>2. Сначала шашку ставят на конечное поле, и только ПОТОМ снимают сбитие шашки.</li><li>3. Через одну и ту же шашку ДВАЖДЫ перепрыгивать нельзя.</li><li>4. Если удар можно закончить на разных полях, выбирайте более выгодное продолжение.</li></ol>
<b>A4</b> 31 – d8 32 – c7 33 – h4 34 – g7 35 – h6 36 – b4 vai a3 37 – h8 38 – c5 39 – b8 vai b4 40 – h4 vai g5	<b>A8</b> 71 – g5 vai e3 72 – e1 73 – g7 74 – a5 75 – a5 76 – h6 77 – e3, d2 vai c1 78 – a5 79 – g1 80 – b8	

Ответы пишутся на листочке, которые сдаются тренеру. Если хоть один ответ из 10 задач карточки решен не правильно, то в следующий раз объясняется ошибка и всю карточку надо перерешивать и ответы писать заново.